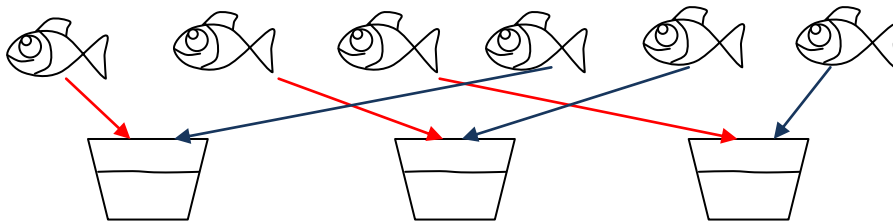


Ora ho 6 pesci e 3 vasi. Metto prima un pesce in ogni vaso e poi ricomincio, fino a quando tutti i pesci sono nei vasi. Attenzione! Il numero di pesci in ogni vaso deve essere lo stesso; non ci deve essere un vaso che contiene più pesci di un altro.

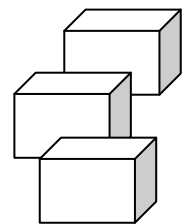
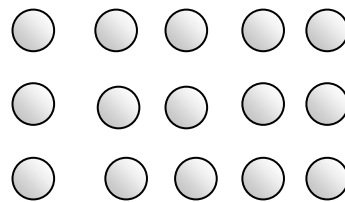


☺ Quanti pesci in ogni vaso? _____

tutti i pesci	vasi	pesci in ogni vaso
6	3	= 2
dividendo	divisore	quoto


Leggi e risolvi i problemi.

A. Leonardo ha 15 biglie da riporre in parti uguali dentro 3 scatole. Quante biglie metterà in ogni scatola?



biglie	scatole			
15		:	=	biglie in ogni scatola
<i>dividendo</i>	_____		_____	

B. La mamma ha 24 fiori da disporre in ugual numero in 4 vasi. Quanti fiori metterà in ogni vaso?



fiori	vasi			
		:	=	fiori in ogni vaso
_____	_____		_____	