


## LA DIVISIONE di contenenza

Marta ha comprato 18 uova e per non romperle le ripone in contenitori da 6 uova ciascuno. Quanti contenitori le occorrono?



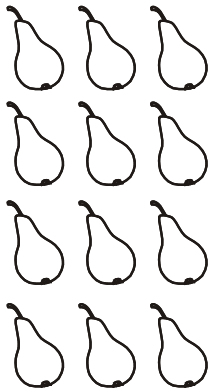
$$\dots : \dots = \dots$$

Quanti gruppi di 6? .....

A Marta occorrono ..... contenitori.

In un cestino ci sono 12 pere. Devo metterne 3 per ogni piatto.

Di quanti piatti avrò bisogno?



$$\dots : \dots = \dots$$

Quanti gruppi di 3? .....

Avrò bisogno di ..... piatti.

Nell'acquario ci sono 20 pesciolini. Se ne vengono messi 5 per vaso, quanti vasi occorreranno?




$$\dots : \dots = \dots$$

Quanti gruppi di 5? .....

Occorreranno ..... vasi.

Un cameriere sta finendo di apparecchiare per il pranzo. Se ha ancora 8 bicchieri e vuole metterne 4 per tavolo, quanti tavoli preparerà?



$$\dots : \dots = \dots$$

Quanti gruppi di 4? .....

Preparerà ..... tavoli.